

Mise bout à bout

■ Mesurer des segments.

Situation de départ

Écrivez un message à votre correspondant qui lui permettra de découper une bande de même longueur que le segment dont vous disposez.

date :


1 a) Combien mesure la bande rose ?




b) Combien mesure la bande bleue ?



2 a) Colorie une bande qui mesure 11 cm et 9 mm.



b) Colorie une bande qui mesure 7 cm et 25 mm.




3 a) Combien mesure la bande verte ?




b) Combien mesure la bande jaune ?



4 a) Colorie une bande qui mesure 9 cm et 5 mm.

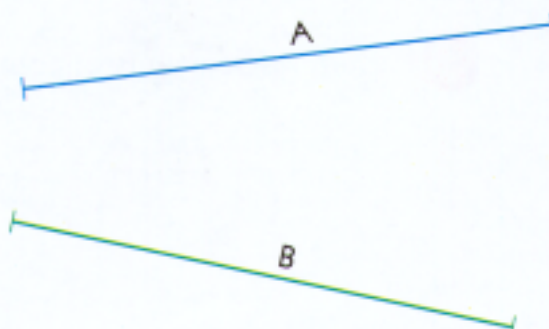


b) Colorie une bande qui mesure 6 cm et 67 mm.




5 Mesure la longueur des 2 segments.

Quel est le plus long ?




date :

- 6 Quelle serait la longueur totale des segments, si on les mettait bout à bout ?



Réponse :

- 7 Calcule la longueur totale des 2 segments puis vérifie avec le double décimètre.



Réponse :

- 8 Transforme les écritures suivantes :

8 cm = mm

24 cm = mm

5 cm 9 mm = mm

17 cm 2 mm = mm

- 9 Transforme les écritures suivantes :

25 mm = cm mm

81 mm = cm mm

70 mm = cm mm

703 mm = cm mm

- 10 Mesure les segments et complète le tableau.

	Mesure en cm et mm	Mesure en mm
A		
B		
C		

